

# 首里城ワークシート【初級編】



くうらん  
空欄をうめてみよう！！



氏名： \_\_\_\_\_

## 守礼門

最初にみえる門は、2000円札にも描かれている「守礼門」です。

何とよみますか？

答え： **しゅれいもん**

門の上に「守禮之邦」と書かれた額があります。

これは、「琉球は礼節を大切にす国である」という意味です。

この門は戦争で焼けてしまいましたが、いつ再建されましたか？



答えを選んで○でかこみましょう。

① 1950年 ② 1958年 ③ 1960年

## 園比屋武御嶽石門

※首里城跡とならび、沖縄の世界遺産の一部です。

次に見えるのが、園比屋武御嶽石門です。何と読みますか？

答え： **そのひゃんうたきいしもん**

この門は、国王が外出するときにあることを祈願した拝所です。

何を祈願したでしょうか。答えを選んで○でかこみましょう。



① 安全祈願 ② 豊作祈願 ③ 健康長寿祈願

裏に続きます⇒

## 正殿

奉神門ほうしんもんをくぐって正面せいでんに見えるのは正殿せいいでんです。正殿には、沢山の龍りゅうがいます。

外から見える龍は何匹いるでしょうか？答えを選んで○でかこみましょう。

- ① 5匹 ② 10匹 ③ 13匹

龍りゅうの爪つめは何本ですか？答えを選んで○でかこみましょう。

- ① 2本 ② 3本 ③ 4本

正殿は、色々な国の建て方を勉強たかたして作られている部分や、沖縄独自どくじとされているものがあります。下の①②③はどこの国を参考にしたでしょうか。


それぞれ線で結んでみよう。

① 基壇きだんといわれる石垣の上に建物が立てられていること。

② 正殿の正面はんえんけいに半円形をした屋根からがあります。唐破風はといえます。

③ 栃木県とちぎにある日光東照宮にっこうとうしょうぐうにも同じ形の屋根があります。

③ ハの字はしらに開いた階段と龍の柱



- |   |   |        |
|---|---|--------|
| ① | — | 沖縄（琉球） |
| ② | — | 中国     |
| ③ | — | 日本     |

## 沖縄戦




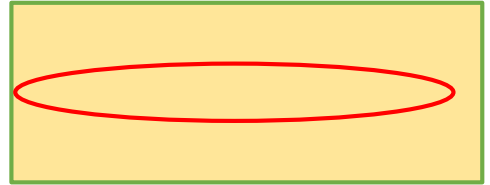

首里城は、沖縄戦おきなわせんの中でそのほとんどが焼けてしまいました。それは、首里

城の地下たいに第①ぐん し れい ぶ ごう軍司令部こうげきもくひょう壕があり、攻撃目標こうげきもくひょうとなったためでした。

- ② 32 ② 42 ③ 52







君は何問正解できたかな？



6 10  
3 5  
0 2

# 首里城ワークシート(上級編)



くうらん  
空欄をうめてみよう!!



氏名: \_\_\_\_\_

## 守礼門

最初にみえる門は、2000円札にも描かれている「守礼門」です。何とよみますか？

答え: **しゅれいもん**

門の上に「守禮之邦」と書かれた額があります。これは、「琉球は礼節を大切にす国である」

という意味です。この門は戦争で焼けてしまいましたが、いつ再建されましたか？

答え: **1958年**

## 園比屋武御嶽石門

※首里城跡とならび、沖縄の世界遺産の一部です。

次に見えるのが、園比屋武御嶽石門です。何と読みますか？

答え: **そのひゃんうたきいしもん**

この門は、国王が外出するときにあることを祈願した拝所です。何を祈願したでしょうか。

答え: **安全祈願**

## 歓会門

次に見えるのが、歓会門です。何と読みますか？ 答え: **かんかいもん**

歓は「よろこぶ」という意味です。では「歓会」とはどんな意味でしょうか？

答え: **歓迎する**

### 歓会門の大きな彫刻

門の両側に動物がいます。何でしょうか？また、どうして置かれていると思いますか？

動物の名前: **シーサー** 置く理由: **魔よけのため**

## 瑞泉門

次に見えるのが、瑞泉門です。何と読みますか？

答え：**ずいせんもん**

では、「瑞泉」とはどんな意味でしょうか？

答え：**めでたい水（立派な泉）**



この門の右側に龍の彫刻の口から出る湧水があります。首里城で唯一、沖縄戦をくぐりぬけ現在まで残っているこの龍の湧水を何というのでしょうか？



中国からの使いの人々が来ると、この湧水を宿舎まで運ぶほどおいしい水でした。でも、残念ながら今は飲めません。

答え：**りゅうひ  
龍樋**

瑞泉門の両脇に建つ、泉をほめたたえた石碑は7つありますが、これらは何という名称で呼ばれているのでしょうか？

答え：**さっぽうしちひ  
冊封七碑**

## 漏刻門

次に見えるのが、漏刻門です。何と読みますか？

答え：**ろうこくもん**

漏刻の「漏」は水が漏れるという意味です。「刻」とは時刻の「刻」です。

では、「漏刻」とはどんな意味でしょうか？

答え：**水時計**

## 日影台

次に見えるのが、日影台です。何と読みますか？

答え：**にちえいだい**

「日影」とは字の通り日かげです。日の影がうつる台は、何の役割をしたのでしょうか？

答え：**時間をはかる（日時計）**

## 万国津梁の鐘

次に見えるのが、万国津梁の鐘です。何と読みますか？

答え： **ばんこくしんりょうのかね**

この万国津梁の鐘はいつ作られましたか？

答え： **1458年**

### 万国津梁の鐘とは・・・

いま首里城にある鐘は複製で、本物は沖縄県立博物館にあります。もともと本物は首里城の正殿の前にかけていました。

この鐘には「琉球国は南海の美しい国であり、朝鮮・中国・日本との間にあって、船を万国の架け橋とし貿易で栄える国である。」と、琉球王国が海での貿易で栄えていたことが書かれています。



## 広福門

次にみえるのが、広福門です。何と読みますか？

答え： **こうふくもん**

「広」とは、ひろがるという意味です。では「広福」とは、どんな意味でしょうか？

答え： **幸せをひろめる**

### 建物が門

今までの門と違い、建物が門となっています。この門の中には、士族の財産争いを調停する「おおくみざ大与座」と、お寺や神社を管理する「じしゃざ寺社座」という役所が置かれました。





## 系図座・用物座

広福門に入って右手に見えるのが系図座・用物座です。何と読みますか？

答え： **けいずざ・ようもつざ**

系図座は士族の家系図を管理していた役所で  
用物座はお城で使用する物品などの管理を行った役所です。



## 首里森御嶽

広福門に入って正面に見えるのが、首里森御嶽です。何と読みますか？

答え： **すいむいうたき**

### 首里城の御嶽

首里森御嶽は神様が造ったといわれる聖地です。首里城にはいくつも御嶽うたきといわれる聖地があります。首里森御嶽の後ろにある石垣の向こうにも御嶽がいくつも集まった「京の内」があります。

首里城の中には、こういった御嶽が何カ所あったのでしょうか？

**10** カ所

## 奉神門

次に見えるのが奉神門です。何と読みますか？

答え： **ほうしんもん**



「奉神」は「神をうやまう」という意味です。向かって左側は、お薬やお茶などを取り扱っていた「納殿なでん」という部屋で、右側は儀式を行った「君誇きみほこり」という部屋でした。

奉神門は3つの門がありますが、中央の門は身分の高い人しか通ることができませんでした。具体的には、どのような人が通っていたのでしょうか？

答え： **国王や中国からの使者**



## 御庭

奉神門を抜けると広場がみえてきます。御庭といいますが、何と読みますか？

答え： うなー

赤と白のタイルが敷かれています。これは儀式のときに役人たちが、身分によって立つ位置を決める目印でした。

また、ここは中国から来た使いの人たちに芸能を披露する舞台があったところでした。

中央には、赤い道があります。この道も、身分の高い人しか通れませんでした。

この道は何というのでしょうか？

答え： うきみち  
浮道

## 南殿・番所

奉神門から入って右側には、南殿・番所があります。何と読みますか。

答え： なんでん・ばんどころ

番所では、正殿を訪れる人々の受付や、日本風の儀式がおこなわれました。

南殿だけが赤くぬられていません。どうしてだと思いますか？

答え： 日本風の建物だから or 日本の役人との交渉にも使われたから

## 正殿

奉神門から入って正面に見えるのは正殿です。正殿には、沢山の龍がいます。

外から見える龍は何匹いるのでしょうか？

答え： 13 匹

龍の爪は何本ですか？

答え： 4 本



正殿についての問題はまだ続くニャ

正殿は、色々な国の建て方を勉強して作られている部分や、沖縄独自とされているものがあり

ます。下の①②③はどこの国を参考にしたでしょうか。

それぞれ線で結んでみよう。

- ① <sup>きだん</sup>基壇といわれる石垣の上に建物が立てられていること。
- ② 正殿の正面に半円形をした屋根があります。唐破風<sup>からはふ</sup>といえます。  
栃木県にある日光東照宮<sup>にっこうとうしょうぐう</sup>にも同じ形の屋根があります。
- ③ ハの字に開いた階段と龍の柱



- |   |   |   |        |
|---|---|---|--------|
| ① | ○ | ○ | 沖縄（琉球） |
| ② | ○ | ○ | 中国     |
| ③ | ○ | ○ | 日本     |

## 北殿

奉神門から入って左側に見えるのは、北殿です。何と読むでしょうか？

答え： **ほくでん**

あの有名人も来た北殿

ここは、役人たちが政治について話し合いをする場所でした。  
また、中国からの使いの人たちが来たときは、接待をする場所になりました。  
1853年と1854年にアメリカから来た **ペリー** も北殿で接待されています。

## 国王の肖像画

南殿にはいると、国王の肖像画の白黒写真があります。この肖像画のことを何というのでしょうか？

答え： **おこえ 御後絵**

肖像画のひみつ

この絵は、描かれている国王が亡くなったあとに王府の絵師によって作成されていました。  
本物は沖縄戦で失われましたが、白黒写真が記録されていたおかげで復元が進んでいます。

## 御差床

正殿に入ると、1階には、国王の座った場所があります。御差床といいますが、何とよむでしょう？

答え： **うさすか**

正殿の役割・龍は何匹？

1階は国王が儀式や政治を行う場所でした。ここには龍が何匹いるのでしょうか？

**4** 匹

2階にも御差床があり、王府の行事が行われました。

御庭側には小部屋があります。そこは正月の儀式の時などに国王が座りました。

正殿の2階にも多くの龍がいます。見えない場所にも**2匹**の龍がいるのですが、今見える場所には何匹いるのでしょうか？

**14** 匹

外側も含めて、正殿全体には合計で何匹の龍がいるのでしょうか？

**33** 匹

その他にも御差床には動物がいます。どんな動物ですか？

答え： **リス**

## 建物の塗り直し

首里城の建物は（ **うるし** ）で塗られ、

表面は弁柄という赤い顔料（絵具のようなもの）を、桐油とまぜて塗られています。



首里城はとても大きな琉球漆器といえるんだニャ

## 儀式

北殿の中には2つ模型があります。入口側にある模型は、正月の儀式の様子を人形でわかりやすく展示しています。役人たちが並んで国王にあいさつをしています。国王は正殿2階の小部屋に座っています。奥を探したら国王が見つかりますよ。



もう一つの模型は、中国からの使いの人たち（ **さっぽうし 冊封使** ）から、新しい国王が琉球の国王として任命される儀式、（ **さっぽうぎしき 冊封儀式** ）の様子を展示しています。中国からの使いの人は、中国皇帝の代理できているので、琉球の新しい国王は、頭を深く下げて皇帝からの任命の言葉を聞いています

## 淑順門

この門は、正殿裏側一帯の御内原おうちばらに入るための門で、淑順門といいます。  
何と読みますか？

答え： しゅくじゅんもん

御内原は（だんしきんせい 男子禁制）で、国王とその家族以外、入ってはいけない場所になっていて淑順門の門番も女の人でした。

## 西のアザナ

首里城の西側に作られていた物見台が、西のアザナです。  
ここは漏刻門で時刻を測って、西のアザナなどで道具を使って時刻を知らせていました。  
どの道具を使っていましたか？○で囲んでください。



- ① 太鼓 ② 鐘 ③ 笛

この展望台からは慶良間諸島まで見ることができ、  
きれいな夕日が沈むのが見られるのじゃ！



## 沖縄戦

首里城は沖縄戦の中でそのほとんどが焼けてしまいました。  
それは首里城の下に第（ 32 ）軍司令部壕があったことで、攻撃目標となったためでした。

## 琉球王国のグスク及び関連遺産群



沖縄には、琉球王国のグスク（城）や、それに関する遺産が9つあります。それらが集まって、「琉球王国のグスク及び関連遺産群」という名前で1つの世界遺産として登録されています。  
それでは、その9つの遺産を書き入れてみましょう。

※答えを書く順番は自由です。

- ① 園比屋武御嶽石門  
② 勝連城跡  
③ 座喜味城跡

- ④ 中城城跡  
⑤ 首里城跡  
⑥ 玉陵

- ⑦ 今帰仁城跡  
⑧ 識名園  
⑨ 斎場御嶽